

У Егорки- малыша  
 Четыре карандаша.  
 У его сестренки Иры  
 Столько же- четыре.  
 Сколько всего карандашей?  
 Спросим мы у малышей.

У Егорки	
У Иры	
Всего	?

	+		=	
--	---	--	---	--



Сначала в школу на урок  
 Прилетело пять сорок,  
 Позднее две примчало.  
 Сколько всего их стало?

Прилетело	
Примчало	
Стало	?

	+		=	
--	---	--	---	--



Реши задачи на вычитание и запиши их решения.

В гараже стояли пять машин. Утром две уехали. Сколько машин осталось?



	-		=	
--	---	--	---	--



	-		=	
--	---	--	---	--

В гнезде сидели семь птичек. Три птички улетели. Сколько птичек осталось?




Около елки росло восемь грибов. Четыре из них несъедобных. Сколько съедобных грибов росло под елкой?

	-		=	
--	---	--	---	--



Посмотри внимательно на картинки и скажи, к каким примерам относится каждая из них.



Чудес Юдо

$8 - 3$

$2 + 6$



$7 - 2$

$4 + 2$



Сосчитай героев и зачеркни неправильные ответы под таблицами. Что ты замечаешь, считая?



Чудес Юдо



1 2 3 4 5 6

1 2 3 4 5 6

1 2 3 4 5 6



1 2 3 4 5 6


1 2 3 4 5 6

1 2 3 4 5 6

Сушит белочка опята:  
 Три больших и мелких два.  
 Сколько их всего, ребята!-  
 Спросит тетушка Сова.

Больших	
Мелких	
Всего	?

	+		=	
--	---	--	---	--



Под дубочком два грибочка  
 И четыре под клёночком.  
 Ёжики их все собрали.  
 Всего их сколько? Посчитали?

Под дубом	
Под клёном	
Всего	?

	+		=	
--	---	--	---	--



Модны заяц мини-хвост  
 Девять груш в тележке вёз.  
 А одна в кармашке.  
 (Это для Наташки)  
 Сколько было груш всего  
 У зайчишки моего?



В тележке	
В кармашке	
Всего было	?

	+		=	
--	---	--	---	--

Трое маленьких котят  
 Рыбку весело едят.  
 А один налег на кашу.  
 Сколько всех их у Наташи?



Едят :рыбу	
кашу	
Всех котят	?

	+		=	
--	---	--	---	--



Мама отправила Машу в магазин за покупками и дала ей 20 руб. Сколько денег потратила Маша и сколько у нее осталось?



Мама решила испечь торт и отправила Дашу в магазин за продуктами для крема. Что потребуется купить для крема? Сколько денег потратит Даша?



Папа решил покрасить забор. Миша пошел в магазин купить то, что потребуется папе для покраски. Что купит Миша? Сколько он потратит денег?



Рыбу мальчики ловили.  
 Сколько кошке подарили,  
 Если две та съела сразу,  
 Три пока еще в запасе?

Съела	
В запасе	
Подарили	?



	+		=	
--	---	--	---	--



Листья ежики носили,  
 Мягкую постель стелили.  
 Был один листок дубовый,  
 Пять листочков же кленовых.  
 Как все листья посчитать,  
 Сколько их всего назвать?

Дубовых	
Кленовых	
Всего	?


	+		=	
--	---	--	---	--



Реши задачи на сложение и запиши их решения.

В аквариуме жили три рыбки.  
К ним пустили ещё двух. Сколько  
рыбок стало в аквариуме?


	+		=	
--	---	--	---	--



Ёжик нёс четыре гриба  
и четыре яблока. Сколько  
всего предметов нёс на  
своих иголках ёжик?

	+		=	
--	---	--	---	--

На полках стояли пять  
кукол и три неваляшки.  
Сколько всего игрушек  
стояло на полках?



	+		=	
--	---	--	---	--