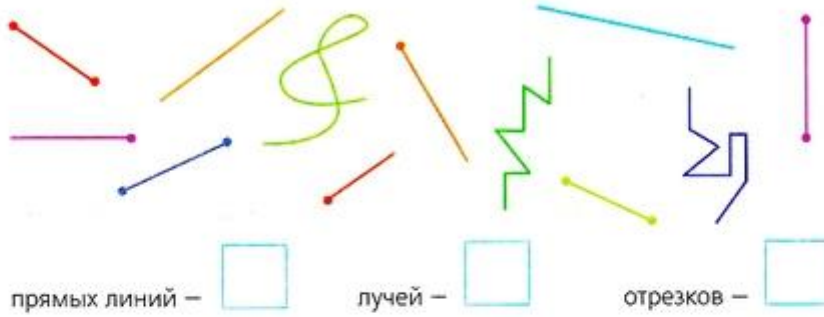
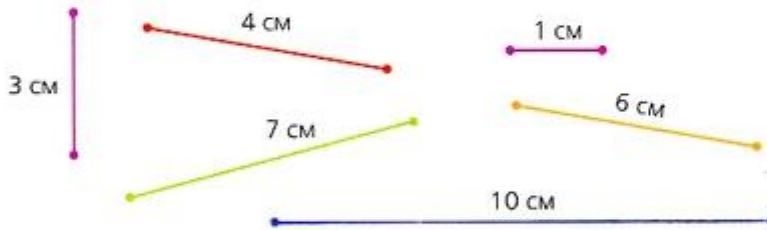


20.10	Умножение целых чисел и десятичных дробей на однозначное число.	С. 33 № 171, № 172, № 176
21.10	Деление целых чисел и десятичных дробей на целое число	С. 33 № 174, № 175, № 180
26.10	Деление чисел, полученных при измерении величин	С. 34 № 183, № 184
16.10	Геометрический материал. Измерение углов.	С. 181 № 879-885
27.10	Деление чисел, полученных при измерении величин. Повторение.	С.35 № 186, № 187, № 189, № 190
28.10	Нахождение неизвестного.	С. 30 № 62 (2), № 163
23.10 .	Геометрический материал. Проверочная работа. Геометрические фигуры из отрезков и лучей	

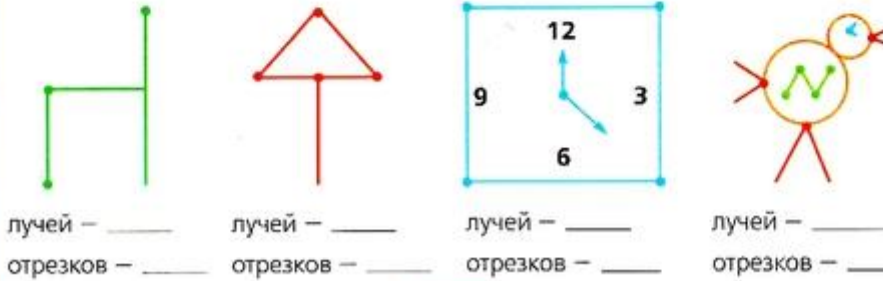
4 Сосчитай, сколько нарисовано прямых линий, лучей, отрезков, и запиши в квадратиках их количество.



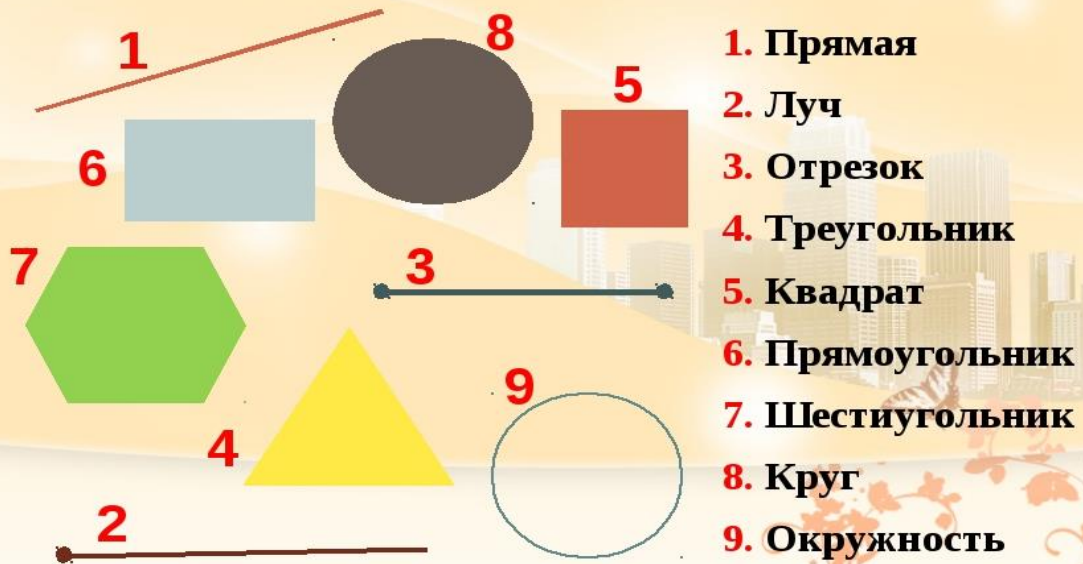
5 Проверь длину отрезков при помощи линейки. Если есть ошибки, исправь их.



6 Напиши под каждым предметом, сколько лучей и отрезков ты в нём нашёл.



Найди соответствие фигуры и её названия:



Ломаная линия.

Несколько отрезков, соединенных вместе, составляют ломаную линию.



Сколько звеньев у каждой из этих ломаных линий? Сосчитай и напиши.

